

ESTADO DO RIO GRANDE DO SUL - PREFEITURA DE PASSO FUNDO
EDITAL Nº 048/2016 - CONCURSO PÚBLICO

MATUTINO – 11/12/2016
NÍVEL MÉDIO

PROVA OBJETIVA – OPÇÃO 1

CARGO: SECRETÁRIO DE ESCOLA

Leia atentamente as INSTRUÇÕES:

1. Não é permitido ao candidato realizar a prova usando óculos escuros (exceto para correção visual ou fotofobia, desde que informe no ato da inscrição) ou portando: aparelhos eletrônicos, qualquer tipo de relógio, chaves e acessórios que cubram a cabeça e/ou rosto.
2. Caso o candidato porte algum dos itens mencionados anteriormente, antes do início das provas deverá acomodá-lo(s) **EMBAIXO DE SUA CADEIRA**, sob sua guarda e responsabilidade, mantendo o(s) aparelho(s) eletrônico(s) desligado(s), sob pena de ser eliminado deste Concurso Público.
3. Confira seus dados no cartão-resposta: nome, número de inscrição e o cargo para o qual se inscreveu.
4. Assine seu cartão-resposta.
5. Aguarde a autorização do Fiscal para abrir o caderno de provas. Ao receber a ordem do fiscal, confira o caderno de provas com muita atenção. Nenhuma reclamação sobre o total de questões ou falha de impressão será aceita depois de iniciada a prova.
6. O cartão-resposta não será substituído, salvo se contiver erro de impressão.
7. Preencha toda a área do cartão-resposta correspondente à alternativa de sua escolha, com caneta esferográfica (tinta azul ou preta), sem ultrapassar as bordas. As marcações duplas, ou rasuradas, com corretivo, ou marcadas diferentemente do modelo estabelecido no cartão-resposta poderão ser anuladas.
8. Sua prova tem **60** questões, com **4** alternativas.
9. Cabe apenas ao candidato a interpretação das questões, **o fiscal** não poderá fazer nenhuma interferência.
10. A prova será realizada com duração máxima de **4 (quatro) horas**, incluído o tempo para a realização da Prova Objetiva e o preenchimento do cartão-resposta.
11. O candidato poderá retirar-se do local de realização das provas somente **1 (uma) hora** após o seu início, sem levar o caderno de provas.
12. O candidato poderá levar o caderno de provas, assim como anotação contendo transcrição do seu cartão-resposta, somente 2h (duas horas) após o início da realização das provas.
13. Ao terminar a prova, o candidato deverá entregar ao fiscal de sala o cartão-resposta preenchido e assinado.
14. Os **3 (três)** candidatos, que terminarem a prova por último, deverão permanecer na sala, e só poderão sair juntos após o fechamento do envelope, contendo os cartões-resposta dos candidatos presentes e ausentes, e assinarem no lacre do referido envelope, atestando que este foi devidamente lacrado.
15. Durante todo o tempo em que permanecer no local onde está ocorrendo o concurso, o candidato deverá, manter o celular desligado e sem bateria, só sendo permitido ligar depois de ultrapassar o portão de saída do prédio.
16. Não será permitido ao candidato fumar na sala de provas, bem como nas dependências.

BOA PROVA!

LÍNGUA PORTUGUESA

Texto para as próximas três questões.

É preciso combater a cultura plasticomania. (Alexandre de Sousa Aciloi).

Passiva e inconscientemente, o brasileiro incorporou à sua rotina o uso do saco plástico como a “embalagem mais adequada” para tudo. Seja no supermercado, na farmácia, na padaria, na livraria ou na loja de confecções, por menor e mais insignificante que seja a compra, vem sempre dentro de um saquinho plástico.

O plástico (material composto de resina originária do petróleo e inventado há 147 anos, por Alexander Parkes) tem a preferência de uso porque, simplesmente, reduz os custos dos comerciantes com embalagens. Mas a utilização indiscriminada e o lançamento na natureza provocam verdadeiros desastres.

A utilização sem controle dessas embalagens, principalmente as sacolas de supermercados (produzidas a partir de uma resina chamada polietileno de baixa densidade – PEBD) preocupa os ambientalistas brasileiros, ora empenhados em acabar com a cultura da plasticomania.

Não sendo biodegradáveis (são formados por cadeias moleculares inquebrantáveis), os sacos plásticos levam centenas de anos para desaparecerem na natureza. No Brasil essas embalagens representam 9,7% de todo o lixo produzido: cerca de 210 mil toneladas/ano. Abandonados nos vazadouros, os saquinhos impedem a passagem da água, contribuem para o retardamento da decomposição de materiais biodegradáveis e dificultam a compactação dos detritos.

Lançados nos mares, os plásticos são ameaça constante para mais de 200 diferentes espécies marinhas. Os sacos são letais para tartarugas, baleias, golfinhos, focas e outros mamíferos marinhos, que os confundem com animais que lhes servem de alimentos, como as águas-vivas e lulas. A ingestão do lixo pode levá-los à morte por asfixia ou pelo bloqueio do intestino.

Um relatório do Programa Ambiental das Nações Unidas alerta para o impacto da poluição plástica. São registrados mais de 46 mil detritos de plásticos a cada milha quadrada de oceano, o suficiente para provocar à morte de um milhão de aves marinhas, 100 mil mamíferos aquáticos e milhares de peixes. A poluição, aliada à pesca predatória e ao aquecimento global, respondeu pela ameaça e/ou extinção de 24% das espécies marinhas, em 2002. Na década de 1970, esse percentual era de 10%.

Em alguns países com populações detentoras de um grau de consciência ecológica superior ao nosso, como a África do Sul, Alemanha, Botswana, Canadá, Grã-Bretanha, Índia, Irlanda, Quênia, Cingapura, Taiwan e Tanzânia, a plasticomania foi abolida. A prática antiecológica é, inclusive, coibida com punição pecuniária dos infratores.

Inquieta-nos saber que os brasileiros não se preocupam com a terrível multiplicação do lixo plástico no meio ambiente. Recentemente, o governo federal lançou a campanha “Saco é um saco” para incentivar a população a ir às compras com sacolas de pano ou de palha. Mas a campanha é tímida, acanhada, sem impacto e nenhum vigor. É preciso, urgentemente, que o país tenha uma eficiente e eficaz política nacional de resíduos sólidos, que possa responsabilizar os produtores e distribuidores pela coleta e processamento dos materiais que degradam o meio ambiente e coloca em risco a qualidade de vida das espécies.

01. O título do texto é formado pela junção dos substantivos plástico e mania, fazendo com que uma nova palavra seja criada: plasticomania. A essa nova palavra damos o nome de:

- a) Neologismo
- b) Antítese
- c) Metáfora
- d) Hipérbole

02. Leia os itens e assinale a alternativa correta:

I - Os sacos plásticos não são biodegradáveis e demoram anos para desaparecer da natureza, ao estacionarem nos vazadouros (ralos), impedem a passagem de água, desaceleram a decomposição de materiais biodegradáveis e dificultam a compactação dos detritos.

II - Quando vão para os mares, os sacos plásticos ameaçam as espécies marinhas, que costumam confundi-los com animais que lhes servem de alimentos, ingerindo-os e levando-os até a morte.

III - Segundo o texto, consciência ecológica é contribuir para a preservação do meio ambiente, não desperdiçando água, evitando jogar lixo em locais proibidos, como ruas e rios, dando preferência a materiais de limpeza que agridam menos o meio ambiente.

IV - No Brasil e em alguns outros países, aqueles que não aboliram a plasticomania em suas práticas cotidianas, são punidos com multas.

- a) Apenas I, II e IV estão corretos.
- b) Apenas I, II e III estão corretos.
- c) Apenas II, III e IV estão corretos.
- d) Apenas I, III e IV estão corretos.

03. Ainda se referindo ao texto, assinale a alternativa incorreta.

a) O último parágrafo pode ser considerado conclusivo, porque resume todo o texto, além de lançar uma possível alternativa em lidar com o problema apontado. Nele, o autor afirma que é preciso implantar uma política nacional de resíduos sólidos.

- b) A campanha “Saco é um saco,” citada no último parágrafo, incentiva a população a usar sacolas de pano ou palha em suas compras, o que, na opinião do autor, é uma campanha tímida, sem impacto e sem vigor.
- c) O texto não defende um ponto de vista, nem tem opinião pessoal, definida; não tem caráter argumentativo.
- d) O sentimento do autor, revelado no último parágrafo, é de inquietação devido a não preocupação dos brasileiros com a multiplicação de lixo plástico no ambiente.

04. Veja as definições de gêneros textuais nos itens seguintes e assinale a alternativa que os apresenta na sequência correta:

I -: é um importante gênero textual que apresenta uma narrativa complexa, pois não dispõe apenas um núcleo, mas várias tramas que se desenvolvem no decorrer da narração da história principal. Descrição longa das ações e sentimentos de personagens fictícios, numa transposição da vida para um plano artístico.

II -: este é um dos tipos de texto que é mais fácil de identificar. Sua linguagem é narrativa e descritiva, o objetivo desse texto é informar algo que aconteceu.

III -: é escrito em linguagem informal, sempre consta a data e não há um destinatário específico, geralmente, é para a própria pessoa que está escrevendo, é um relato dos acontecimentos do dia. O objetivo desse tipo de texto é guardar as lembranças e em alguns momentos desabafar.

IV -: dependendo do destinatário, pode ser formal, quando é para alguém mais culto ou que não tenha intimidade. Dependendo do objetivo terá diferentes estilos de escrita, podendo ser dissertativa, narrativa ou descritiva. Inicia-se com a data, em seguida vem a saudação, o seu corpo e para finalizar a despedida.

V - : este gênero geralmente aparece na forma oral, diferente da maioria dos outros gêneros. Suas principais características são a linguagem argumentativa e expositiva, pois sua intenção é fazer com que o destinatário se interesse pelo produto que está sendo oferecido. O texto pode conter algum tipo de descrição e sempre é claro e objetivo.

- a) Romance, Propaganda, Carta, Diário, Notícia.
b) Diário, Notícia, Carta, Romance, Propaganda.
c) Diário, Notícia, Romance, Carta, Propaganda.
d) Romance, Notícia, Diário, Carta, Propaganda.

05. Os vocábulos, cujo número de letras é igual ao número de fonemas, estão na alternativa:

- a) Caderno, Margarida, complexo.
b) Canta, holofote, nexó.
c) Nascer, terra, fixo.
d) Espelho, ferro, guincho.

06. Assinale a opção onde os vocábulos não possuem dígrafos.

- a) Carro, pássaro, guerra.
b) Você, café, abóbora.
c) Quero, chuva, palha.
d) Lenha, piscina, exceção.

07. Assinale a alternativa que não apresenta as palavras separadas corretamente.

- a) Pro-ba-tó-ri-o / na-da-dei- ra / a-quo-so.
b) Ir-re-qui-e-to / sus-sur-ra-do / re-ma-nes-cên-ci-a.
c) Ná-i-a-de / ma-te-i-ro / lin-gu-a-do.
d) De-sin-qui-e-ta-ção / hi-dro-gê-ni-o / in-ter-ven-ci-o-nis-ta.

08. Na linguagem escrita, utilizamos sinais para marcar as pausas, o ritmo, as divisões das ideias, o relacionamento das palavras e os grupos de palavras entre si, como também os sinais que indicam a entonação de voz e a melodia do texto.

Leia os itens e assinale alternativa correta:

I - O ponto final é empregado para encerrar o período e nas abreviaturas.

II - O ponto e vírgula é usado para separar orações de um período longo, em que já existam vírgulas.

III - Dois-pontos são usados nas enumerações, nas exemplificações, antes de citação da fala ou declaração de outra pessoa, antes das orações apositivas.

IV - A vírgula é usada para separar elementos de uma enumeração, para separar vocativos e apostos, para separar orações intercaladas.

V - Parênteses não são usados para intercalar no texto palavras e expressões de explicação ou comentário, nem nas indicações bibliográficas.

- a) Apenas I, II, III e V estão corretos.
b) Apenas II, III, IV e V estão corretos.
c) Apenas I, III e IV estão corretos.
d) Apenas I, II, III e IV estão corretos.

09. Assinale a alternativa onde não temos um pronome relativo.

- a) Isso que você está levando é seu?
- b) Pedro comprou a casa que lhe convinha.
- c) Sejamos gratos a Deus, a quem tudo devemos.
- d) Leve tantos ingressos quantos quiser.

10. Leia os itens e assinale a alternativa correta quanto ao uso do pronome:

I - Esta caneta não lhe pertence, devolva-a ao dono.

II - Remeto-o pelo correio a sua encomenda.

III - Procuramos os documentos, mas não os encontramos.

IV - Faça o que lhe aprouver.

V - Eu a convidei para minha festa.

- a) Apenas I, II, III e IV estão corretos.
- b) Apenas II, III, IV e V estão corretos.
- c) Apenas I, III, IV e V estão corretos.
- d) Apenas II, III e IV estão corretos.

11. Assinale a alternativa que tenha um pronome adjetivo e outro substantivo.

- a) Eu gosto de amigos.
- b) Minha família vai bem, e a sua?
- c) Tuas amigas estiveram na minha festa.
- d) Conversei o assunto com ele.

12. Marque a alternativa onde temos, na sequência, um numeral cardinal, um ordinal, um fracionário e outro multiplicativo.

- a) Dois, vigésimo, quíntuplo, oitenta avos.
- b) Novecentos, milésimo, dobro, terço.
- c) Sete, terceiro, sêxtuplo, doze avos.
- d) Setecentos, quingentésimo, metade, quádruplo.

13. Assinale a opção onde encontramos apenas substantivos masculinos.

- a) Dó, herpes, eczema.
- b) Derme, própolis, omoplata.
- c) Entorse, pane, cólera.
- d) Mascote, cal, libido.

14. Assinale a alternativa onde temos um grau comparativo de superioridade.

- a) A professora é lindíssima.
- b) Minha namorada é mais bonita.
- c) Margarete é muito bonita.
- d) Minha mãe é tão alta quanto a professora.

15. Leia a classificação apresentada para as palavras grifadas em cada frase dos itens seguintes e assinale a alternativa correta:

I - Ela estava muito bonita e falava elegantemente. (Advérbio de intensidade e advérbio de modo).

II - Ele tem muito dinheiro e quer muito mais. (Advérbio de intensidade, advérbio de intensidade).

III - O cãozinho rodeou-nos alegre e festivamente. (Advérbio de modo e advérbio de modo).

IV - Talvez a situação melhore e o povo possa viver bem. (Advérbio de dúvida e advérbio de modo).

V - Meu carro está ali, o teu acolá. (Advérbio de lugar, advérbio de tempo).

- a) Apenas I, II, III e V estão corretos.
- b) Apenas II, III, IV e V estão corretos.
- c) Apenas I, II, III e IV estão corretos.
- d) Apenas III, IV e V estão corretos.

16. Assinale a alternativa que completa corretamente os itens a seguir:

I - Eles confiam mim.

II - Nada obsta que ocupe o cargo.

III - Fostes nós uma mãe carinhosa.

IV - Estava ansioso rever os filhos.

V - Todos são iguais Deus.

- a) em, contra, para, por, perante.
- b) em, por, sobre, após, ante.
- c) de, a, para, até, sem.
- d) em, a, para, por, perante.

17. Assinale a alternativa onde temos apenas hiatos.

- a) Saara, doer, juízo.

- b) Pouco, série, voo.
- c) Jeito, rei, aorta.
- d) Pão, iguais, lagoa.

18. Assinale a alternativa onde temos uma frase imperativa.

- a) André veio me visitar.
- b) Vá estudar, menino.
- c) Quantos anos você tem?
- d) Como o amanhecer é lindo!

19. Analise os itens quanto ao uso correto da crase e assinale a alternativa certa:

I - Pedro foi à Cidade da Criança.

II - O professor comunicou a data da prova à classe.

III - De setembro à dezembro temos a primavera.

IV - Costumo dormir das nove às sete.

V - Às vezes fico a pensar no destino do mundo.

- a) Apenas I, II, III e IV estão corretos.
- b) Apenas II, III, IV e V estão corretos.
- c) Apenas I, II, IV e V estão corretos.
- d) Apenas III, IV e V estão corretos.

20. Marque a opção onde temos um ditongo, um hiato e um tritongo.

- a) Fui, pouco, averiguou.
- b) Uruguai, saguão, área.
- c) Ciúme, cruel, preencher.
- d) Herói, poeira, quão.

MATEMÁTICA

21. Sendo $A=\{0, 2, 4, 6, 8\}$ e $B=\{0, 3, 6, 9, 12\}$, é correto afirmar que:

- a) $A \cup B = \{0, 6\}$
- b) $A \cup B = \{0, 6, 12\}$
- c) $A \cap B = \{0, 2, 3, 4, 6, 8, 9, 12\}$
- d) $A \cap B = \{0, 6\}$

22. Três ferradores demoram 12 dias para fabricar 400 ferraduras. Quantos ferradores de mesma capacidade dos primeiros são necessários para fabricar 200 ferraduras em 9 dias?

- a) 1 ferrador
- b) 2 ferradores
- c) 4 ferradores
- d) 5 ferradores

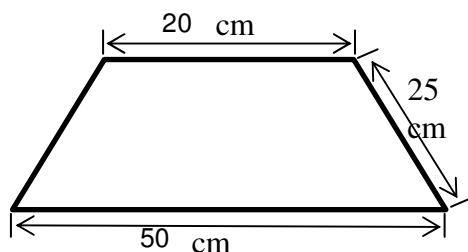
23. Se Marta aplicar R\$5.000,00 a uma taxa de juros simples de 2%a.m., qual será o montante que irá obter após 2 anos?

- a) R\$200,00
- b) R\$2.400,00
- c) R\$5.200,00
- d) R\$7.400,00

24. Resolvendo o determinante $\begin{vmatrix} x-1 & 3 \\ x-2 & 2 \end{vmatrix} = 0$, obtemos que x vale:

- a) 10
- b) 8
- c) 6
- d) 4

25. Qual é a área do trapézio isósceles a seguir?



- a) $175\sqrt{11} \text{ cm}^2$
- b) $175\sqrt{34} \text{ cm}^2$
- c) 700cm^2
- d) 875cm^2

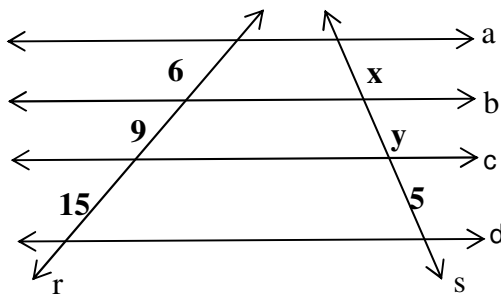
26. A soma das raízes da equação $x^3 - 3x^2 - 33x + 35 = 0$ é igual a:

- a) -3
- b) -1
- c) 1
- d) 3

27. Resolvendo a equação: $2^x + 2^{x+2} + 2^{x+3} = 104$ no conjunto dos números reais, obtemos como solução:

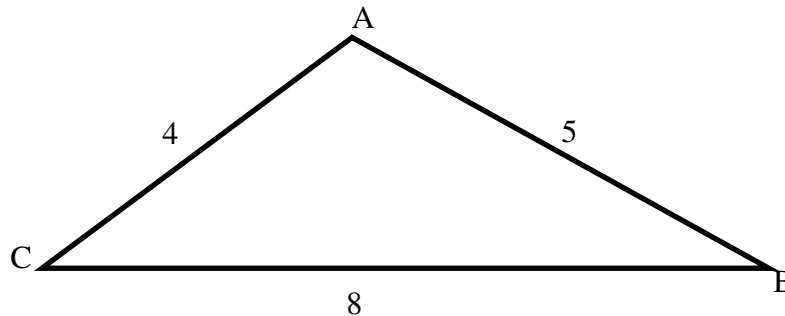
- a) $\frac{47}{3}$
- b) 8
- c) 3
- d) 2

28. Na figura a seguir, $a//b//c//d$ e r e s são retas transversais. Sendo assim, é possível concluir que x^y vale:



- a) 6
- b) 8
- c) 9
- d) 54

29. No triângulo a seguir, temos que $AB=5 \text{ cm}$, $AC=4 \text{ cm}$ e $BC=8 \text{ cm}$. Qual o valor do $\cos C$?



- a) $\frac{5}{8}$
- b) $\frac{55}{64}$
- c) $\frac{1}{2}$
- d) $\frac{64}{55}$

30. Assinale a alternativa que contém a solução da equação $|x| = 4 + x$:

- a) $S = \{x \in \mathbb{R} / -5 < x < -1\}$
- b) $S = \{x \in \mathbb{R} / 1 < x < 5\}$
- c) $S = \{x \in \mathbb{R} / -1 < x < 5\}$
- d) $S = \{x \in \mathbb{R} / -5 < x < -3\}$

CONHECIMENTOS GERAIS E ATUALIDADES

31. De acordo com o site oficial da Prefeitura de Passo Fundo - RS, a área que hoje integra Passo Fundo pertencia ao município de

- a) Carazinho.
- b) Porto Alegre.
- c) Rio Pardo.
- d) São Pedro.

32. Passo Fundo foi elevado à categoria de Município em

- a) 1831
- b) 1857
- c) 1957
- d) 1890

33. “Diversos eventos artísticos, culturais e científicos são realizados no município de Passo Fundo: Jornada Nacional de Literatura, Feira do Livro, Festival Internacional de Folclore, Mostra da Cultura Gaúcha, Rodeio Internacional, EFRICA, e tantos outros que conferem a importância da cidade que também é conhecida como _____”.

- a) Caminho dos Paulistas
- b) Freguesia de Passo Fundo
- c) Capital do Boqueirão
- d) Capital do Planalto Médio Gaúcho

34. Numa homenagem ao cantor regionalista Vitor Mateus Teixeira, a Câmara Municipal de Vereadores de Passo Fundo aprovou a Lei instituindo _____, de autoria deste cantor, como a música-símbolo da cidade.

- a) “Gaúcho de Passo Fundo”
- b) “Gaúcho da Fronteira”
- c) “Querência Amada”
- d) “Gritos de Liberdade”

35. De acordo com o site oficial da Prefeitura de Passo Fundo - RS, a área que hoje integra Passo Fundo era inicialmente povoada por

- a) espanhóis.
- b) indígenas.
- c) franceses.
- d) tropeiros.

36. O clima de Passo Fundo é

- a) tropical úmido, com chuvas bem distribuídas durante o ano.
- b) frio e úmido, com chuvas bem distribuídas durante o ano.
- c) temperado com característica subtropical úmido, com chuvas bem distribuídas durante o ano.
- d) seco, com chuvas apenas nos meses de outubro a março.



37. De acordo com o relatório trimestral Global Economic Outlook (Panorama Econômico Global), o PIB (Produto Interno Bruto, ou a soma de riquezas de um país) brasileiro vai registrar:

(Disponível em <http://www.bbc.com/portuguese/internacional-38126520>, acessada em 01/12/2016).

- a) contração de 3,4% neste ano e crescimento nulo (0%) em 2017.
- b) contração de 3,4% neste ano e crescimento de (2,1%) em 2017.
- c) contração de 4,0% neste ano e crescimento de (1,5%) em 2017.
- d) contração de 1,5% neste ano e crescimento de (3,4%) em 2017.

38. Leia a notícia e atribua V (verdadeiro) ou F (falso) aos itens, depois assinale a alternativa correta. Começam obras de recuperação de 548 km de estradas na região de Passo Fundo.

() O governo do Estado assinou o início das obras do Contrato de Restauração e Manutenção de Rodovias (Crema) na Região de Passo Fundo.

() As obras envolvem 32 municípios e contemplam 548,33 quilômetros com investimento de R\$ 239.569.009,45 milhões, oriundos do Banco Mundial.

() O documento foi assinado pelo governador José Ivo Sartori em cerimônia no Palácio Piratini.

(Disponível em <http://www.rs.gov.br>, acessado em 01/12/2016).

- a) V, V, V.
- b) F, F, V.

- c) V, F, V.
d) F, V, V.

39. A notícia “Curta TVE apresenta panorama da produção cinematográfica na América Latina”, divulgada em 30/11/2016, no site <http://www.rs.gov.br>, diz:

I - 'Construção: Um Filme Latino' é a atração do Curta TVE desta quarta-feira (30/11), que vai ao ar às 23h.

II - O filme é uma análise sobre o panorama atual da produção cinematográfica na Argentina, Brasil, Paraguai e Uruguai, a partir das percepções de um grupo de jovens cineastas latino-americanos.

III - Essa reflexão sobre a cinematografia América Latina tem como entrevistados Alfredo Rodríguez, da Argentina; Carlos Cáceres Ferreira, do Paraguai; Clarisa Navas, da Argentina; Diego Florentino, Brasil; Florencia Reolon Yarza, do Uruguai; Hugo Cataldo, Paraguai; Livia Chagas Feliciano, Brasil; e Lucas Cilintano, Uruguai.

É verdadeiro o que está posto

- a) apenas no item I.
b) apenas no item II.
c) apenas nos itens I e II.
d) nos itens I, II e III.



40. O ônibus-cela da Superintendência dos Serviços Penitenciários (Susepe) já recebe presos provisórios, conforme publicado no site www.ssp.rs.gov.br.

O equipamento poderá receber simultaneamente

- a) de 30 a 45 detentos.
b) de 20 a 30 detentos.
c) até 20 detentos.
d) até 40 detentos.

41. Além do Rodeio e da Vaquejada, consideram-se patrimônio cultural imaterial do Brasil expressões decorrentes, dentre outros, como:

I - apartação;

II - bulldog;

III - provas de rédeas;

IV - provas dos Três Tambores, Team Penning e Work Penning.

A partir dessa informação, aponte a alternativa correta quanto ao patrimônio cultural imaterial do Brasil.


- a) Consideram-se patrimônio cultural imaterial o que se apresenta nos itens I, II, III e IV.
b) Consideram-se patrimônio cultural imaterial apenas o que se apresenta nos itens I, II e IV.
c) Consideram-se patrimônio cultural imaterial apenas o que se apresenta nos itens II, III e IV.
d) Consideram-se patrimônio cultural imaterial apenas o que se apresenta nos itens I, II e III.

42. Imagens capturadas por um drone mostram a devastação causada por enchentes e deslizamentos de terra. A onda de lama e entulho destruiu casas e deixou centenas de moradores desabrigados. Ligúria e Piemonte foram as regiões mais afetadas. (<http://www.bbc.com/portuguese/internacional-38126511> - acessado em 01/12/2016)

Este deslizamento ocorreu no

- a) sul da França.
b) sul do Chile
c) noroeste da Itália.
d) no norte Noruega.

43. Leia a notícia e assinale a alternativa que completa corretamente a lacuna:



“ _____, teve, este ano, a pior perda já observada desses animais. A causa foi o branqueamento provocado pela elevação da temperatura da água entre os meses de março e abril. Ao noticiar o novo recorde, cientistas destacaram a preocupação com o futuro desse delicado sistema que, com 2.300 quilômetros de extensão, é o maior do mundo.”

(Disponível em <http://www.correiobrasiliense.com.br/ciencia-e-saude>, acessada em 01/12/2016).

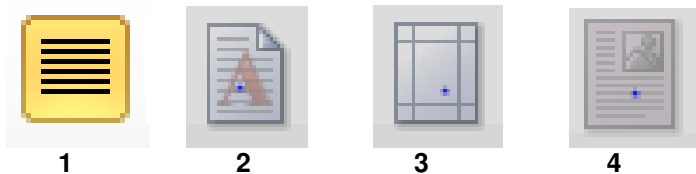
- a) A Patagônia, um dos símbolos da Argentina
- b) O Oceano Antártico
- c) A Grande Barreira de Corais, um dos símbolos da Austrália
- d) O Oceano Ártico

44. Leia o texto e aponte a alternativa que completa corretamente a lacuna.

Em 30/11, foi publicada, no *Diário Oficial da União* (DOU), a Lei 13.365/2016, que traz novas regras para exploração dos blocos do pré-sal. Essa Lei faculta à Petrobras o direito de preferência para atuar como operador e possuir participação _____ nos consórcios formados para exploração de blocos licitados no regime de partilha de produção.

- a) máxima de 25%
- b) mínima de 30%
- c) máxima de 50%
- d) mínima de 40%

45. Marque a alternativa que apresenta a nomenclatura dos ícones na sequência correta.



- a) (1) Margens (2) Posição (3) Justificar (4) Marca d'água
- b) (1) Marca d'água (2) Margens (3) Posição (4) Justificar
- c) (1) Marca d'água (2) Margens (3) Justificar (4) Posição
- d) (1) Justificar (2) Marca d'água (3) Margens (4) Posição

CONHECIMENTOS DE LEGISLAÇÃO

À luz da Lei Orgânica do Município de Passo Fundo/RS, responda às próximas cinco questões.

46. Marque C (certo) ou E (errado) e assinale a alternativa correta.

O Município de Passo Fundo, parte integrante da República Federativa do Brasil e do Estado do Rio Grande do Sul, no pleno uso de sua autonomia política, administrativa e financeira, no que diz respeito a seu peculiar interesse, reger-se-á por Lei Orgânica e pelas demais leis que adotar, respeitados os princípios estabelecidos nas Constituições Federal e Estadual. A autonomia do Município se expressa:

- () Pela eleição direta do Prefeito e do Vice-Prefeito, que compõem o Poder Executivo Municipal.
- () Pela eleição direta dos Vereadores, que compõem Poder Legislativo Municipal.
- () Pela administração própria, no que diz respeito ao seu peculiar interesse.

- a) C – C – C
- b) E – C – C
- c) C – E – C
- d) C – C – E

47. No que diz respeito à saúde, assinale a alternativa incorreta.

- a) O Município prestará, com a cooperação técnica e financeira da União e do Estado-membro, serviços de atendimento à saúde da população.
- b) A saúde é direito de todos e dever do Município, que, em conjunto com a União e com a ação do Estado-membro, realizará sua promoção e proteção.
- c) O Município incentivará o planejamento familiar por meio de campanhas periódicas anuais com duração mínima de seis meses.
- d) As ações e serviços de saúde são de relevância pública, cabendo ao Poder Público Municipal dispor, nos termos da lei, sobre sua regulamentação, fiscalização e controle, nos limites de sua competência, devendo a execução ser feita preferencialmente por serviços oficiais e, supletivamente, por serviços de terceiros, pessoas físicas ou jurídicas de direito privado.

48. Todos têm direito ao meio ambiente ecologicamente equilibrado, bem de uso comum do povo e essencial à sadia qualidade de vida, impondo-se ao Município e à coletividade o dever de defendê-lo e preservá-lo para as presentes e futuras gerações, garantindo-se a proteção dos ecossistemas e o uso racional dos recursos ambientais.

Acerca disso, é correto afirmar:

- a) Não é proibida a canalização de rios e riachos na área do Município.
- b) Fica proibida a instalação, o trânsito, o depósito, e a produção de equipamentos nucleares bélicos no Município.
- c) As unidades de conservação (zonas de preservação ecológica e de mananciais, santuários ecológicos, jardins botânicos) são consideradas patrimônio público municipal alienável, sendo permitida sua concessão ou cedência.

d) Os recursos oriundos de multas administrativas e condenações judiciais por atos lesivos ao meio ambiente, e de taxas incidentes sobre a utilização dos recursos ambientais, serão destinados da forma que a administração achar conveniente.

49. O processo legislativo compreende a elaboração de:

I - Emendas à Lei Orgânica

II - Leis complementares

III - Leis ordinárias

IV - Decretos legislativos

V - Resoluções

É correto afirmar que:

- a) O único item incorreto é o II.
- b) Estão corretos apenas os itens I, II e V.
- c) Os itens IV e V estão incorretos.
- d) Todos os itens estão corretos.

50. A política de desenvolvimento urbano, executada pelo Poder Público Municipal, conforme diretrizes gerais fixadas em lei federal, tem por objetivo ordenar o pleno desenvolvimento das funções sociais da cidade e promover o bem-estar de seus habitantes.

Acerca disso, assinale a alternativa que contém a soma exata dos itens corretos.

7 - A propriedade urbana cumpre sua função social, quando atende às exigências fundamentais de ordenação da cidade expressas no plano diretor.

13 - As desapropriações de imóveis urbanos serão feitas com prévia e justa indenização em dinheiro.

25 - Todo aquele que, na forma da lei, ocupar área urbana ou rural de até cento e cinquenta metros quadrados, que sejam bem dominiais do Município, utilizando-a para a sua moradia ou de sua família, por mais de quatro anos até a data de promulgação desta Lei Orgânica, adquirir-lhe-á o direito de uso, desde que não seja proprietário de outro imóvel urbano ou rural.

38 - O Poder Executivo deverá instituir o Plano Diretor de Desenvolvimento Integrado, por meio de lei específica, aprovada por maioria absoluta dos votos dos membros da Câmara Municipal de Vereadores, em duas votações, com intervalo de dez dias.

- a) 51
- c) 58
- b) 70
- d) 83

51. De acordo com o Estatuto da Criança e do Adolescente, no que diz respeito à educação, assinale a alternativa incorreta:

- a) O acesso ao ensino gratuito é direito público objetivo.
- b) O não oferecimento do ensino obrigatório pelo poder público ou sua oferta irregular importa responsabilidade da autoridade competente.
- c) Compete ao poder público recensear os educandos no ensino fundamental, fazer-lhes a chamada e zelar, junto aos pais ou responsável, pela frequência à escola.
- d) Os pais ou responsável têm a obrigação de matricular seus filhos ou pupilos na rede regular de ensino.

Pautado na Lei Complementar nº 203/2008 – Regime Jurídico dos Servidores Públicos Municipais de Passo Fundo/RS, responda às próximas quatro questões.

52. Fica assegurado aos ocupantes de cargos de provimento em comissão, exceto:

- a) 14º salário
- b) Férias de 30 dias após cada 12(doze) meses de exercício, acrescido de 1/3 (um terço).
- c) Abono família
- d) Auxílio funeral no caso de falecimento durante o exercício do cargo.

53. Provimento é o ato de preenchimento de cargo público e far-se-á mediante ato da autoridade competente de cada Poder. Os cargos públicos serão providos por:

I – Nomeação.

II – Reintegração.

III – Reversão.

IV – Aproveitamento.

V – Readaptação.

VI – Recondição.

VII – Contratação.

A respeito disso, é correto afirmar:

- a) Os itens III e IV estão incorretos.
- b) II, V e VI são os únicos itens corretos.
- c) Apenas o item VII está incorreto.

d) Todos os itens estão corretos.

54. A respeito dos requisitos para o provimento em cargo público, julgue com C (certo) ou E (errado) e assinale a alternativa correta.

Ter completado 21 (vinte e um) anos de idade, quando da posse.

Estar quites com as obrigações militares e eleitorais.

Provar aptidão exigida para o exercício do cargo.

a) C – E – C

b) E – C – C

c) E – C – E

d) C – C – C

55. No que diz respeito à posse, assinale a alternativa incorreta:

a) O Prefeito e o Secretário Municipal responsável pela gestão de pessoal são competentes para dar posse.

b) A autoridade que der posse não é competente para verificar se foram satisfeitas as condições legais para a investidura no cargo, sendo responsável para isso a empresa que promoveu a prova de concurso público.

c) A posse deverá se verificar no prazo de 30 (trinta) dias, contados da publicação oficial do ato de provimento.

d) O Presidente e o Secretário Geral da Câmara Municipal, no caso dos servidores do Poder Legislativo, são competentes para dar posse.

56. De acordo com o art. 212, da Constituição Federal, a União aplicará, anualmente, nunca menos de dezoito, e os Estados, o Distrito Federal e os Municípios vinte e cinco por cento, no mínimo, da receita resultante de impostos, compreendida a proveniente de transferências, na manutenção e desenvolvimento do ensino.

Acerca disso, julgue as afirmativas com C (certo) e E (errado) e assinale a alternativa correta.

A distribuição dos recursos públicos assegurará prioridade ao atendimento das necessidades do ensino obrigatório, no que se refere a universalização, garantia de padrão de qualidade e equidade, nos termos do plano nacional de educação.

A educação básica pública terá como fonte adicional de financiamento a contribuição social do salário-educação, recolhida pelas empresas na forma da lei.

As cotas estaduais e municipais da arrecadação da contribuição social do salário-educação serão distribuídas proporcionalmente ao número de alunos matriculados na educação básica nas respectivas redes públicas de ensino.

a) C – E – C

b) E – C – C

c) C – C – C

d) E – C – E

Responda às próximas três questões de acordo com a Resolução nº 21 de 02/04/2014.

57. Art. 2º: “A Educação infantil, primeira etapa da Educação Básica, tem por finalidade o desenvolvimento integral da criança de até _____, em seus aspectos físico, psicológico, intelectual e social, complementando a ação da família e da comunidade.”

Assinale a alternativa que preenche a lacuna de forma correta.

a) 5 (cinco) anos

b) 4 (quatro) anos e 11 (onze) meses

c) 6 (seis) anos

d) 7 (sete) anos e 11 (onze) meses

58. O Regimento Escolar é o documento oficial que define a organização e o funcionamento do estabelecimento de ensino quanto aos aspectos administrativos e pedagógicos, com base na legislação de ensino em vigor. Acerca disso, assinale a alternativa incorreta.

a) A elaboração do Regimento Escolar é de autonomia e atribuição da Escola, com a colaboração da comunidade escolar.

b) A vigência mínima de um Regimento Escolar fica estabelecida em dois anos, ressalvados os casos em que houver mudança na legislação ou por orientação do Conselho Municipal de Educação ou, por necessidade, justificada pela escola.

c) Após análise do texto do Regimento Escolar pelo Conselho Municipal de Educação será emitido Parecer de Aprovação individualizado.

d) O encaminhamento do Regimento Escolar para aprovação pelo Conselho Municipal de Educação será feito pela Entidade Mantenedora da Escola de Educação Infantil.

59. A respeito dos profissionais, assinale a alternativa correta.

a) Para a função de Diretor e Coordenador Pedagógico da Instituição de Educação Infantil, exigir-se-á à habilitação no Curso de graduação em Pedagogia ou Psicologia.

b) Para exercer a função de assistente, exigir-se-á a formação em nível médio na modalidade Normal.

c) É assegurado aos profissionais das Instituições de Educação Infantil do Sistema Municipal de Ensino o gozo de um período de férias que será de 30 dias e um recesso de 10 dias, bem como, os feriados municipais e nacionais, estabelecidos no calendário escolar.

d) É assegurado aos Professores, formações pedagógicas, em serviço, em datas fixadas pelos próprios professores.

60. De acordo com a Lei nº 3.261/1997, que trata sobre a Eleição de diretores das Escolas Municipais de Ensino Fundamental, a escolha do diretor caberá a determinados segmentos da comunidade escolar.

Sobre isso, marque com C (certo) ou E (errado) e assinale a alternativa correta.

Os membros do Magistério e funcionários , designados e em exercício na escola.

Os alunos regularmente matriculados na escola, a partir da 4ª série e aqueles com idade igual ou superior a 12 anos, independente da série em curso

Os pais de todos os alunos da escola ou os responsáveis legais dos alunos perante a mesma.

a) C – E – C

b) C – C – E

c) E – C – E

d) C – C – C

RASCUNHO